

1 국토의 위치와 영역



1 우리 국토의 위치와 영역

① 우리 국토의 위치

위치	<ul style="list-style-type: none"> 아시아 대륙의 동쪽에서 태평양과 맞닿아 있는 반도 국가 북위 33°~43°, 동경 124°~132° 사이에 있음. 자료 1 중국과 일본 사이에 있음.
특징	<ul style="list-style-type: none"> 도로나 철도를 이용해 대륙으로 나아가기 유리함. 삼면이 바다와 맞닿아 있어 해양으로 나아가기에 좋은 위치에 있음.

② 우리나라의 영역 **자료 2**

영토	<ul style="list-style-type: none"> 한반도와 한반도에 속한 여러 섬 4극: 영토의 끝으로, 우리나라 영토의 범위를 알 수 있음.
영해	<ul style="list-style-type: none"> 서해안, 남해안: 가장 바깥에 있는 섬들을 직선으로 연결한 선인 기선으로부터 12해리까지임. 동해안, 울릉도, 독도, 제주도: 썰물일 때의 해안선을 기선으로 하여 12해리까지임.
영공	우리나라 영토와 영해 위에 있는 하늘의 범위

③ 우리 국토의 소중함

- 국토를 소중하게 여겨야 하는 까닭: 우리가 살아가는 터전이며, 국토를 잘 보존하여 후손에게 물려주어야 하기 때문입니다.
- 국토를 지키고 사랑하는 방법: 국토에 관심 가지기(독도 탐방 등), 국토를 지키는 분께 감사의 마음 표현하기, 환경을 보호하는 일에 적극 참여하기 등이 있습니다.

2 우리 국토의 구분

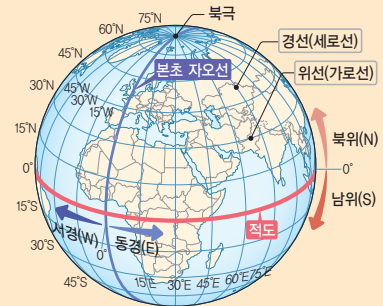
① 자연환경에 따른 국토의 구분

큰 산맥과 하천 중심의 지역 구분	<ul style="list-style-type: none"> 북부 지방: 휴전선 북쪽으로 지금의 북한 지역 중부 지방: 휴전선 남쪽부터 소백산맥과 금강 하류까지의 지역 남부 지방: 중부 지방의 남쪽 지역
전통적인 지역 구분	관북, 관서, 관동(영동, 영서), 해서, 경기, 호서, 호남, 영남 지방으로 구분함. → 오늘날 행정 구역을 정하는 기초가 되었음. 자료 3

② 행정 구역에 따른 국토의 구분

- 행정 구역: 나라를 효율적으로 관리하려고 나눈 지역을 말합니다. → 조선 시대의 8도에서 비롯되었습니다.
- 우리나라의 행정 구역: 북한 지역을 제외하면 특별시 1곳, 특별자치시 1곳, 광역시 6곳, 도 6곳, 특별자치도 3곳으로 이루어져 있습니다.

자료 1 위도와 경도

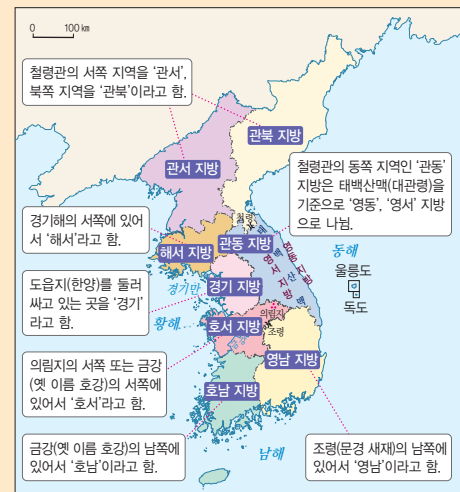


위도	<ul style="list-style-type: none"> 위선(가로선)으로 나타냄. 적도를 기준으로 북쪽은 북위, 남쪽은 남위라고 함.
경도	<ul style="list-style-type: none"> 경선(세로선)으로 나타냄. 본초 자오선을 기준으로 동쪽을 동경, 서쪽을 서경이라고 함.

자료 2 우리나라의 4극

북쪽 끝	
함경북도 온성군 풍서리 유원진	
서쪽 끝	동쪽 끝
평안북도 용천군 마안도(비단섬)	경상북도 울릉군 울릉읍 독도
남쪽 끝	
제주특별자치도 서귀포시 대정읍 마라도	

자료 3 우리나라의 전통적인 지역 구분





1 우리 국토는 아시아 대륙의 (동쪽 , 서쪽)에서 태평양과 맞닿아 있습니다.

1 _____

2 우리 국토는 삼면이 바다로 둘러싸인 () 국가이므로 해양으로 나아가기에 유리한 위치에 있습니다.

2 _____

3 영역에는 한 나라의 주권이 미치는 땅의 범위인 (㉠), 바다의 범위인 (㉡), 하늘의 범위인 (㉢)이/가 있습니다.

3 ㉠: _____

㉡: _____

㉢: _____

4 우리나라 영토의 동쪽 끝은 (), 서쪽 끝은 마안도(비단섬), 남쪽 끝은 마라도, 북쪽 끝은 유원진입니다.

4 _____

5 영해의 범위는 영해를 설정하는 기준인 기선으로부터 ()해리까지입니다.

5 _____

6 큰 산맥과 하천을 중심으로 우리 국토를 구분할 때, 지금의 북한 지역을 북부 지방, 휴전선 남쪽부터 ()과/와 금강 하류까지의 지역을 중부 지방, 중부 지방의 남쪽 지역을 남부 지방이라고 합니다.

6 _____

7 철령관의 동쪽 지역인 () 지방은 태백산맥(대관령)을 기준으로 다시 영동 지방과 영서 지방으로 나눕니다.

7 _____

8 나라를 효율적으로 관리하려고 나눈 지역을 무엇이라고 합니까?

8 _____

2 국토의 자연환경



1 우리나라 지형의 특징과 사람들의 생활 모습 자료 1

산지	<ul style="list-style-type: none"> • 국토의 약 70%가 산지이며, 높고 험난한 산은 대부분 북쪽과 동쪽에 많음. • 고랭지 채소를 재배하고, 스키장과 휴양 시설이 있음.
하천	<ul style="list-style-type: none"> • 큰 하천은 대부분 서쪽과 남쪽으로 흘러감. • 하천 중·상류에 다목적 댐을 건설해 홍수와 가뭄을 예방하고 전기를 생산함.
평야	<ul style="list-style-type: none"> • 서쪽과 남쪽에 주로 넓은 평야가 나타남. • 하천 중·하류 주변 평야에서는 농사를 많이 짓고, 옛날부터 사람이 많이 모여 살아 도시가 발달함.
해안	<ul style="list-style-type: none"> • 서해안: 해안선이 복잡하고 섬이 많으며 밀물과 썰물의 차가 커서 갯벌이 발달함. • 남해안: 해안선이 복잡하고, 크고 작은 섬이 많음. → 물고기, 김, 조개류 등을 기르는 양식업이 발달함. • 동해안: 해안선이 단조롭고 섬이 적음. → 길게 뻗은 모래사장이 펼쳐진 곳이 많아 해수욕장이 발달함.

2 우리나라의 기후

① 우리나라 기후의 특징 자료 2

- 중위도에 있어서 기후가 대체로 온화하고 사계절이 나타나며, 계절별로 기온과 강수량의 차이가 큼.
- 계절에 따라 불어오는 바람이 다름.

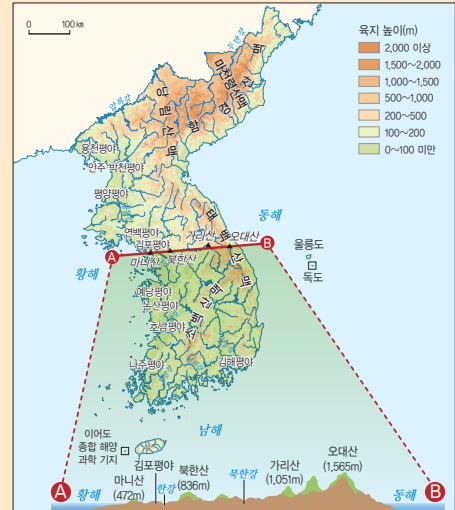
② 우리나라 기온과 강수량의 특징 자료 3

기온	<ul style="list-style-type: none"> • 대체로 남쪽으로 갈수록 기온이 높아지고, 북쪽으로 갈수록 기온이 낮아짐. • 차가운 북서 계절풍을 막아 주는 태백산맥과 수심이 깊고 난류가 흐르는 동해의 영향 → 동해안이 비슷한 위도의 서해안보다 겨울 기온이 높음. • 대체로 해안 지역이 내륙 지역보다 겨울 기온이 더 높음.
강수량	<ul style="list-style-type: none"> • 연 강수량의 절반 이상이 여름에 집중됨. • 대체로 남쪽에서 북쪽으로 갈수록 강수량이 적어짐.

3 우리나라의 자연재해와 그 피해를 줄이려는 노력

- ① 우리나라의 자연재해: 봄에는 황사·가뭄 등이, 여름과 가을에는 폭염·홍수·태풍 등이, 겨울에는 폭설·한파 등이 발생함이다. 최근에는 지진도 자주 발생하고 있습니다.
- ② 자연재해의 피해를 줄이기 위한 노력: 정부에서는 자연재해가 예상될 때 기상 특보와 지진·화산 특보를 발령하고, 개인은 재해 발생 시 행동 요령과 안전 수칙을 알고 실천해야 합니다.

자료 1 우리나라의 지형도(위)와 단면도(아래)



자료 2 우리나라의 계절별 기후 특징

봄	따뜻하고 건조함, 꽃샘추위, 황사 등
여름	덥고 습함(남동쪽에서 더운 바람이 불어옴), 태풍 등
가을	시원하고 맑음, 가을장마
겨울	춥고 건조함(북서쪽에서 차가운 바람이 불어옴), 눈 피해 등

자료 3 기후에 따른 사람들의 생활 모습

• 기온에 따른 옛사람들의 생활 모습

의생활	여름에는 모시옷을 만들어 입었고, 겨울에는 누비옷을 만들어 입었음.
식생활	남쪽 지방은 소금과 젓갈이 많이 들어간 음식이 발달하였고, 북쪽 지방은 싱거운 음식이 발달하였음.
주생활	전통 가옥에는 대청을 만들었고, 난방 시설인 온돌을 설치하였음.

• 강수량에 따른 생활 모습

저수지	가뭄에 대비하려고 만들.
터돋움집	여름철에 비가 많이 오는 지역에서 집이 물에 잠기는 것을 막으려고 집터를 주변보다 높여서 지음.
우데기	울릉도에서 눈이 집으로 들어오는 것을 막고 집 안에서 생활하기 편리하도록 설치하였음.



- 1 우리나라의 높고 험한 (㉠)은/는 대부분 북쪽과 동쪽에 많고, 평평하고 넓은 땅인 (㉡)은/는 서쪽과 남쪽에 발달하였습니다.
- 2 우리나라의 해안 중 ()은/는 해안선이 단조롭고, 길게 뻗은 모래사장이 펼쳐진 곳이 많아 해수욕장이 발달하였습니다.
- 3 우리나라는 여름에 ㉠ (남동쪽 , 북서쪽)에서 더운 바람이 불어오고, 겨울에 ㉡ (남동쪽 , 북서쪽)에서 차가운 바람이 불어옵니다.
- 4 우리나라는 차가운 북서 계절풍을 막아 주는 태백산맥과 수심이 깊고 난류가 흐르는 동해의 영향으로 동해안이 비슷한 위도의 서해안보다 겨울철 기온이 (낮은 , 높은) 편입니다.
- 5 우리나라의 전통 가옥에서는 여름을 시원하게 보내기 위한 ㉠ (대청 , 온돌)과 겨울을 따뜻하게 보내기 위한 ㉡ (대청 , 온돌)을 볼 수 있습니다.
- 6 우리나라는 장마와 태풍의 영향으로 대부분의 지역에서 연 강수량의 절반 이상이 사계절 중 ()에 집중됩니다.
- 7 봄철에 많이 발생하는 자연재해로, 중국이나 몽골의 사막에서 발생한 미세한 모래 먼지가 우리나라까지 날아오는 현상을 무엇이라고 합니까?
- 8 정부에서 태풍, 폭염, 한파 등의 자연재해가 예상될 때 국민이 미리 대처할 수 있도록 발령하는 것을 무엇이라고 합니까?

1 ㉠: _____

㉡: _____

2 _____

3 ㉠: _____

㉡: _____

4 _____

5 ㉠: _____

㉡: _____

6 _____

7 _____

8 _____



1 우리나라의 인구 구조와 인구 분포의 변화

① 우리나라 인구 구조의 변화: 연령별 인구 구성 비율의 변화를 살펴보면 유소년층 인구는 줄고 노년층 인구는 늘어났습니다. → 저출산·고령화 현상이 빠르게 진행되고 있습니다. **자료 1**

② 우리나라 인구 분포의 변화

1960년대 이전	벼농사 중심의 농업 사회로, 남서부 평야 지역은 인구 밀도가 높고 북동부 산지 지역은 인구 밀도가 낮았음.
1960년대 이후	산업화로 도시가 발달하면서 대도시, 수도권, 남동 임해 공업 지역의 인구가 크게 증가하였음.

③ 오늘날 우리나라 인구 분포의 특징: 인구의 절반 정도가 수도권에 모여 살고, 인구 분포가 지역적으로 고르지 않아 여러 가지 문제가 발생합니다. **자료 2**

2 우리나라 도시, 산업, 교통 발달의 모습

① 우리나라의 도시 발달 모습

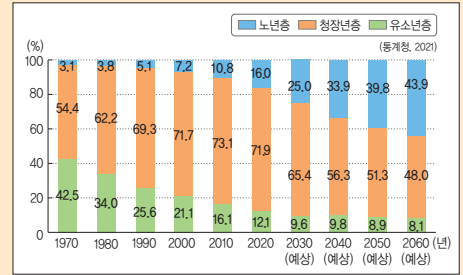
1960년대	산업화 과정에서 많은 사람이 일자리를 찾아 도시로 이동함. → 도시의 수와 도시 인구가 크게 증가함.
1970년대	대도시의 지속적인 성장과 더불어 정부의 중화학 공업 정책에 따라 남동쪽 해안 지역을 중심으로 포항, 울산, 창원 등이 공업 도시로 성장함.
1980년대	경기도에 신도시를 건설하여 서울에 집중된 인구와 기능을 분산함.
최근	수도권에 집중되어 있는 공공 기관을 지방으로 옮겨 인구의 분산, 국토의 균형적 발전을 위해 노력하고 있음.

② 우리나라의 산업 발달 모습

1960년대	노동력이 풍부한 대도시를 중심으로 섬유, 신발 등을 만드는 산업이 발달함.
1970~1980년대	재료를 수입하거나 완성된 제품을 수출하기에 편리한 남동 임해 지역을 중심으로 중화학 공업이 발달함.
1990년대	반도체, 컴퓨터 등의 산업이 빠르게 성장함.
최근	<ul style="list-style-type: none"> 지역별로 각기 다른 산업이 발달하고 있음. 자료 3 각종 서비스업과 첨단 산업이 성장하고 있음.

③ 우리나라의 교통 발달 모습: 1970년에 경부 고속 국도의 개통, 2000년대에 고속 철도의 개통 등 교통의 발달로 지역 간의 이동 시간이 줄면서 사람과 물자의 이동이 활발해지고, 사람들의 생활권이 넓어졌습니다.

자료 1 우리나라의 연령별 인구 구성 비율의 변화



자료 2 인구 분포의 지역적 불균형으로 발생하는 문제

인구가 늘어나는 지역(도시)	주택 부족, 교통 혼잡, 환경 오염 등
인구가 줄어드는 지역(촌락)	일손 부족, 교육 및 의료 시설 부족 등

자료 3 자연환경과 인문환경의 차이에 따라 지역별로 발달한 산업

서울	편리한 교통, 넓은 소비 시장을 바탕으로 여러 가지 산업이 고르게 발달하였음.
대전	대학교와 연구소가 협력하여 첨단 산업이 성장하였음.
광주	자동차를 만드는 산업이 발달하였음.
대구	풍부한 노동력을 바탕으로 섬유, 패션, 전자 산업이 발달하였음.
포항	철광석을 수입하여 철강 제품을 만드는 제철 산업이 발달하였음.
부산	원료를 수입하고 제품을 수출하기 좋은 해안가에 위치해 물류 산업이 발달하였음.
제주	독특하고 아름다운 자연환경을 바탕으로 관광 산업이 발달하였음.



- 1 우리나라의 연령별 인구 구성 비율의 변화를 살펴보면, 유소년층 인구 비율은 줄고, 노년층 인구 비율은 늘어나는 ()·고령화 현상이 빠르게 진행되고 있습니다.
- 2 1960년대 이후 () (으)로 도시가 발달하면서 대도시, 수도권, 남동 임해 공업 지역의 인구가 크게 증가하였습니다.
- 3 서울을 중심으로 인천과 경기를 포함하는 지역으로, 오늘날 우리나라 인구의 절반 정도가 모여 살고 있는 곳은 어디입니까?
- 4 인구가 (늘어나는 , 줄어드는) 지역에서는 주택 부족, 교통 혼잡, 환경 오염 등의 문제가 발생합니다.
- 5 서울로 인구가 집중되면서 생긴 여러 가지 문제를 해결하려고 1980년대부터 경기도에 ()을/를 건설하여 인구와 기능을 분산하였습니다.
- 6 1970년대 이후 원료 수입과 제품 수출에 편리한 (남동쪽 , 북서쪽) 해안 지역 일대에 중화학 공업 단지가 형성되었습니다.
- 7 (대전 , 포항)은 철광석을 수입하여 철강 제품을 만드는 제철 산업이 발달하였습니다.
- 8 ()의 발달로 지역 간의 이동 시간이 줄어들면서 사람들의 생활권이 넓어졌습니다.

1 _____

2 _____

3 _____

4 _____

5 _____

6 _____

7 _____

8 _____

1 다음 ㉠, ㉡에 들어갈 말을 알맞게 짝지은 것은 어느 것입니까? ()

우리 국토는 (㉠) 대륙의 (㉡)에서 태평양과 맞닿아 있는 반도 국가입니다.

- | | | | |
|-------|----|-------|----|
| ㉠ | ㉡ | ㉠ | ㉡ |
| ① 유럽 | 서쪽 | ② 유럽 | 동쪽 |
| ③ 아시아 | 서쪽 | ④ 아시아 | 동쪽 |
| ⑤ 아시아 | 남쪽 | | |

2 우리나라의 위치가 갖는 특징으로 알맞은 것을 두 가지 고르시오. (,)

- ① 바다와 접해 있지 않아 바닷길을 이용할 수 없다.
- ② 도로나 철도를 이용해 대륙으로 나아가기 유리하다.
- ③ 반도이기 때문에 대륙과 해양으로 나아가기 불리하다.
- ④ 바다로 둘러싸여 있어 다른 나라와 교류하기 불리하다.
- ⑤ 삼면이 바다와 맞닿아 있어 해양으로 나아가기 유리하다.

★중요★

3 다음 ㉠, ㉡에 들어갈 알맞은 말을 각각 쓰시오.

- 우리나라의 영토는 (㉠)과/와 (㉡)에 속한 여러 섬입니다.
- 우리나라의 영해는 기선으로부터 12해리까지입니다.
- 우리나라의 (㉢)은/는 우리 영토와 영해 위에 있는 하늘의 범위입니다.

㉠: (), ㉡: ()

4 국토 사랑을 실천할 수 있는 방법을 잘못 이야기한 어린이는 누구입니까? ()

① 우리 국토에 관심을 가져야 해.



② 환경을 보호하는 일은 어른만 할 수 있어.



③ 국토를 아름답게 가꾸어야 해.



④ 우리 국토를 지키는 분들께 감사의 편지를 써.



5 다음에서 설명하는 지역은 어디입니까? ()

우리나라의 전통적인 지역 구분에서 도움지인 한양을 둘러싼 지역을 뜻합니다.

- | | |
|---------|---------|
| ① 경기 지방 | ② 관북 지방 |
| ③ 영남 지방 | ④ 해서 지방 |
| ⑤ 호서 지방 | |

6 북한 지역을 제외한 우리나라 행정 구역에 대한 설명으로 알맞지 않은 것은 어느 것입니까? ()

- ① 도는 6곳이다.
- ② 광역시는 6곳이다.
- ③ 특별시는 1곳이며 서울특별시이다.
- ④ 특별자치도는 1곳이며 제주특별자치도이다.
- ⑤ 특별자치시는 1곳이며 세종특별자치시이다.



7 우리나라의 지형에 대한 설명으로 알맞은 것은 어느 것입니까? ()

- ① 국토의 약 70%가 평야이다.
- ② 평야는 주로 동쪽에 발달하였다.
- ③ 북쪽과 동쪽에 높고 험난한 산이 많다.
- ④ 큰 하천은 대부분 서쪽에서 동쪽으로 흘러간다.
- ⑤ 동해안은 해안선이 복잡하고, 서해안과 남해안은 해안선이 단조롭다.

8 다음 빈칸에 들어갈 알맞은 말은 무엇입니까? ()

하천 중·하류 주변 ()에서는 물을 구하기 쉽고 농사짓기가 좋아 옛날부터 사람이 많이 모여 살았습니다.

- ① 섬
- ② 갯벌
- ③ 산지
- ④ 평야
- ⑤ 해안

9 다음은 계절에 따라 불어오는 바람의 특징을 정리한 내용입니다. ㉠~㉤에 들어갈 말을 잘못 연결한 것은 어느 것입니까? ()

우리나라는 (㉠)에 따라 불어오는 바람이 다릅니다. 여름에는 (㉡)쪽에서 (㉢)습한 바람이 불어오고, (㉣)에는 북서쪽에서 (㉤) 건조한 바람이 불어옵니다.

- ① ㉠ - 계절
- ② ㉡ - 남동
- ③ ㉢ - 덥고
- ④ ㉣ - 겨울
- ⑤ ㉤ - 따뜻하고

★중요★

10 다음 ㉠, ㉡에 들어갈 알맞은 말을 각각 쓰시오.

우리나라는 차가운 북서 계절풍을 막아 주는 (㉠)과/와 수심이 깊고 난류가 흐르는 (㉡)의 영향으로 동해안이 비슷한 위도의 서해안보다 겨울 기온이 높습니다.

㉠: (), ㉡: ()

11 다음과 같은 옛날 사람들의 생활 모습에 가장 크게 영향을 준 것은 무엇입니까? ()

- 여름에는 모시옷, 겨울에는 누비옷을 입었습니다.
- 전통 가옥에는 대청을 만들고 온돌을 설치하였습니다.
- 남쪽 지방에서는 소금과 젓갈이 많이 들어간 음식이, 북쪽 지방에서는 싱거운 음식이 발달하였습니다.

- ① 기온
- ② 자연재해
- ③ 인구 분포
- ④ 산업의 발달 정도
- ⑤ 교통의 발달 정도

서울형

12 우리나라에서 오른쪽 사진과 같은 시설을 만든 까닭을 강수량과 관련지어 쓰시오.



▲ 저수지

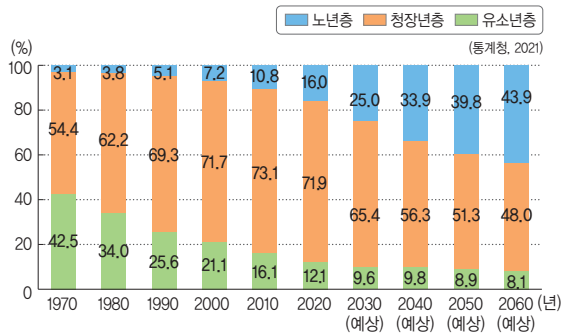
13 지진이 발생하였을 때의 행동 요령으로 알맞은 것을 보기에서 모두 골라 기호를 쓰시오.

보기

- ㉠ 계단 대신 승강기를 이용한다.
- ㉡ 집 밖에서는 가방이나 손으로 머리를 보호한다.
- ㉢ 집 안에서는 탁자 아래로 들어가 몸을 보호한다.
- ㉣ 등교나 하교 중일 때는 건물과 떨어진 공원 같은 넓은 곳으로 대피한다.

()

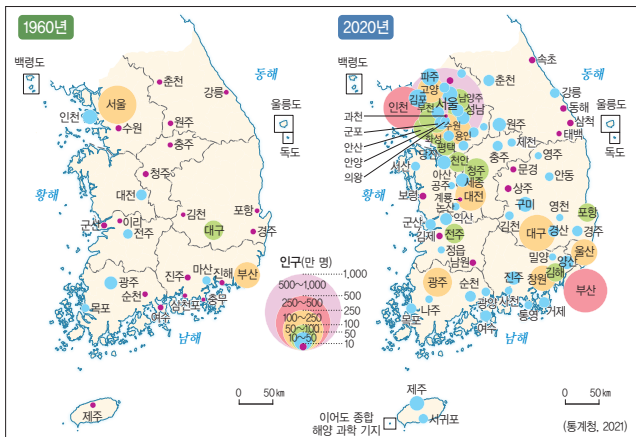
14 다음 그래프를 보고 알 수 있는 우리나라 인구 구성의 특징으로 알맞은 것을 두 가지 고르시오. (,)



▲ 우리나라의 연령별 인구 구성 비율 변화

- ① 저출산 ② 고출산 ③ 다문화
④ 고령화 ⑤ 양성평등

[15~16] 다음 지도를 보고, 물음에 답하십시오.



▲ 우리나라의 도시 수와 도시별 인구의 변화

15 위 지도를 보고, 빈칸에 들어갈 알맞은 말을 쓰시오.

우리나라는 ()과/와 남동 임해 공업 지역을 중심으로 도시가 발달하였습니다.

()

16 위 지도를 통해 알 수 있는 사실로 알맞지 않은 것은 어느 것입니까? ()

- ① 도시 수가 크게 늘었다.
② 도시 인구가 크게 늘었다.
③ 남동쪽 해안 지역의 도시 수가 늘었다.
④ 인구 100만 명 이상인 도시 수가 줄었다.
⑤ 지도에서 원의 크기는 도시의 인구를 나타낸다.

17 1970년대에 포항, 울산, 창원 등의 도시들이 크게 성장한 까닭은 무엇입니까? ()

- ① 수도가 바뀌었기 때문에
② 공업이 발달하였기 때문에
③ 농업이 발달하였기 때문에
④ 신도시를 건설하였기 때문에
⑤ 수도권에 집중되어 있던 공공 기관이 이전하였기 때문에

18 아름답고 독특한 자연환경을 바탕으로 제주에서 발달한 산업은 무엇입니까? ()

- ① 의료 산업 ② 제철 산업
③ 관광 산업 ④ 물류 산업
⑤ 첨단 산업

사실형

19 다음은 교통의 발달로 변화한 생활 모습을 설명한 것입니다. 밑줄 친 부분에 들어갈 내용을 한 가지만 쓰시오.

• 생활권이 넓어졌습니다.

• _____

중요

20 인문환경의 변화에 따라 달라진 국토의 모습으로 알맞은 것을 보기 에서 모두 골라 기호를 쓰시오.

보기

- ㉠ 도시의 성장은 교통과 산업을 더욱 발달하게 한다.
㉡ 교통의 발달은 물자와 인구의 이동을 줄어지게 한다.
㉢ 산업이 발달한 곳은 인구가 모이고 도시가 성장한다.

()

실전 단원 평가 2회

1. 국토와 우리 생활



1
단원

1 우리 국토의 위치에 대한 설명으로 알맞은 것은 어느 것입니까? ()

- ① 몽골과 러시아 사이에 있다.
- ② 아시아 대륙의 동쪽에 위치한 섬이다.
- ③ 아시아 대륙의 서쪽에 위치한 반도이다.
- ④ 북위 33°~43°, 동경 124°~132° 사이에 위치해 있다.
- ⑤ 주변에 미국, 캐나다, 멕시코, 브라질 등의 나라가 있다.

2 다음에서 설명하는 곳은 어디입니까? ()

우리나라 영토의 동쪽 끝으로, 각종 자원이 풍부하고 국토방위에 중요한 장소입니다.

- ① 독도 ② 마안도 ③ 유원진
- ④ 마라도 ⑤ 이어도

3 다음 보기에서 우리나라의 영역에 대한 설명으로 알맞은 것을 고른 것은 어느 것입니까? ()

보기

- ㉠ 한반도만 우리나라의 영토에 해당한다.
- ㉡ 다른 나라의 배나 비행기가 자유롭게 드나들 수 있다.
- ㉢ 우리나라의 영해는 기선으로부터 12해리까지의 바다를 말한다.
- ㉣ 우리나라의 영공은 우리 영토와 영해 위에 있는 하늘의 범위이다.

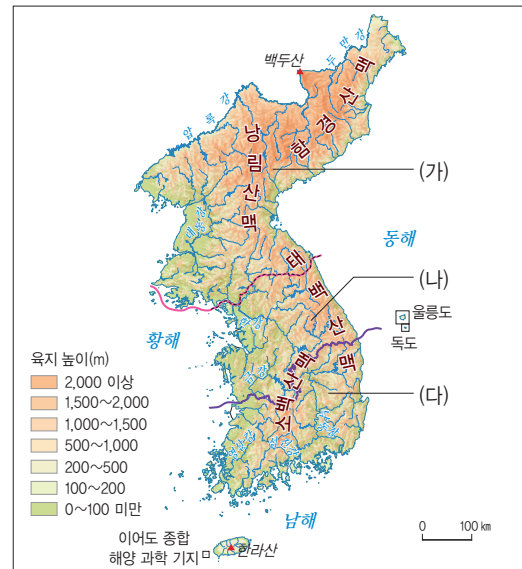
- ① ㉠, ㉡ ② ㉠, ㉢ ③ ㉡, ㉣
- ④ ㉢, ㉣ ⑤ ㉢, ㉣

4 다음 빈칸에 들어갈 말로 알맞은 것은 무엇입니까? ()

우리나라는 옛날부터 산이나 호수, 하천, 바다 등의 ()으로 지역을 구분하였습니다.

- ① 교통수단 ② 문화유산 ③ 자연환경
- ④ 인문환경 ⑤ 통신수단

5 다음은 우리 국토를 큰 산맥과 하천 중심으로 구분한 지도입니다. (가)~(다)에 해당하는 지역을 알맞게 짝지은 것은 어느 것입니까? ()



- | | | |
|---------|-------|-------|
| (가) | (나) | (다) |
| ① 남부 지방 | 중부 지방 | 북부 지방 |
| ② 남부 지방 | 북부 지방 | 중부 지방 |
| ③ 북부 지방 | 중부 지방 | 남부 지방 |
| ④ 북부 지방 | 남부 지방 | 중부 지방 |
| ⑤ 중부 지방 | 남부 지방 | 북부 지방 |

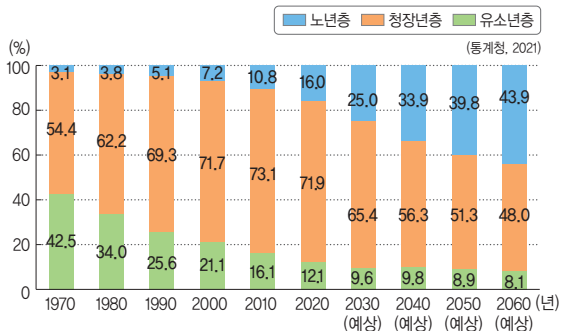
6 다음 ㉠, ㉡에 들어갈 알맞은 말을 각각 쓰시오.

특별시, 특별자치시, 광역시의 행정 업무를 담당하는 곳은 (㉠)이고, 도와 특별자치도의 행정 업무를 담당하는 곳은 (㉡)입니다.

㉠: (), ㉡: ()

서울형

14 다음 그래프를 보고, 우리나라 유소년층과 노년층 인구 비율의 변화 특징을 쓰시오.



▲ 우리나라의 연령별 인구 구성 비율 변화

15 다음 밑줄 친 부분에 들어갈 알맞은 내용은 어느 것입니까? ()

벼농사 중심의 농업 사회였던 1960년대 이전에는 _____ 에 사람들이 많이 모여 살아 인구 밀도가 높았습니다.

- ① 해산물이 풍부한 북동부 해안 지역
- ② 농사지을 땅이 넓은 북동부 산지 지역
- ③ 농사지을 땅이 넓은 남서부 평야 지역
- ④ 높고 험한 산이 많은 북동부 산지 지역
- ⑤ 높고 험한 산이 많은 남서부 산지 지역

16 다음 보기에서 인구가 늘어나는 지역에서 발생하는 문제로 알맞은 것을 모두 골라 기호를 쓰시오.

- 보기
- ㉠ 교통 혼잡 ㉡ 일손 부족
 - ㉢ 주택 부족 ㉣ 의료 시설 부족

()

중요

17 서울의 인구 집중 문제를 해결하기 위한 노력으로 알맞은 것을 두 가지 고르시오. (,)

- ① 서울에 기업을 많이 세웠다.
- ② 서울에 학교를 많이 세웠다.
- ③ 공공 기관을 지방으로 옮겼다.
- ④ 경기도에 신도시를 건설하였다.
- ⑤ 서울에 더 많은 공장을 건설하였다.

18 다음 빈칸에 들어갈 공업 지역은 어디입니까? ()

1970년대 이후에는 재료를 수입하거나 완성된 제품을 수출하기에 편리한 ()에 중화학 공업 단지가 형성되었습니다.

- ① 충청 공업 지역 ② 수도권 공업 지역
- ③ 태백산 공업 지역 ④ 남동 임해 공업 지역
- ⑤ 영남 내륙 공업 지역

19 다음 빈칸에 들어갈 알맞은 말을 쓰시오. ()

대전광역시에서는 연구소와 대학교가 협력하여 () 산업이 성장하였습니다.

20 인구, 도시, 산업, 교통의 관계에 대한 설명으로 알맞지 않은 것은 어느 것입니까? ()

- ① 인구가 많은 지역을 중심으로 교통망이 발달하였다.
- ② 산업이 발달한 곳에는 일자리가 적어 인구도 줄었다.
- ③ 도시의 성장으로 더 많은 인구가 도시로 이동하였다.
- ④ 인구가 도시로 이동하면서 교통과 산업은 더욱 발달하였다.
- ⑤ 교통망의 발달로 신속한 물자 이동이 가능해져 다양한 산업이 성장하였다.




주제 ①

- 우리나라의 영역
-
-

- |목표|** • 한 나라의 영역이 어떻게 구성되는지 이해할 수 있다.
 • 우리나라 영해의 범위를 설명할 수 있다.
 • 우리나라 영역의 특징을 주권과 관련지어 파악할 수 있다.

✳ 다음 텔레비전 뉴스를 보고, 물음에 답하시오.



1-① 위 텔레비전 뉴스에서 말하는 영해 이외에 한 나라의 영역을 이루는 것을 두 가지 쓰시오.

(,)

1-② 위 텔레비전 뉴스에서 말하는 우리나라의 영해는 어디부터 어디까지인지 쓰시오.

1-③ 위 텔레비전 뉴스에서 말하는 것처럼 다른 나라 어선이 우리나라의 영해에서 물고기를 잡을 수 없는 까닭을 영역의 특징과 연관 지어 쓰시오.
